



وزارة التربية

الإدارة العامة لمنطقة الجهاد التعليمية

امتحان نهاية الفصل الدراسي الأول
٢٠٢٠ / ٢٠١٩

الصف	الخامس
المادة	الاجتماعيات



وزارة التربية
مكتب المدير العام
الإدارة العامة لمنطقة الجهاد التعليمية



وزارة التربية
مكتب المدير العام
الإدارة العامة لمنطقة الجهاد التعليمية



أولاً: الأسئلة الموضوعية وتتكون من (أ ، ب ، ج ، د ، هـ)

أ) ضع الرمز (✓) للعبارة الصحيحة والرمز (×) للعبارة غير الصحيحة : (٥×١)

- ١- يبلغ عدد دول الوطن العربي ٢٥ دولة . (×) ص ٢٦
٢- نبات العرفج من النباتات الطبيعية المعمرة . (✓) ص ٤٢
٣- تم حرق آبار النفط الكويتية عام ١٩٩٥ م . (×) ص ٥٩
٤- تعتبر الرياح من أقدم مصادر الطاقة التي عرفها الإنسان . (✓) ص ٧٦
٥- تقع بلادي الكويت في وسط العالم الإسلامي . (✓) ص ٣٠

ب) ضع خطأ تحت الخيار الصحيح من بين الخيارات التي تلي كل عبارة : (٥×١)

- ١- أكبر قارات العالم مساحة وأكثرها سكانا :
* آسيا * أوروبا * استراليا * أفريقيا * (ص ٢١)

- ٢- الإقليم المناخي الذي تقع ضمنه بلادي الكويت :
* المتجمد * الصحراوي * الإستوائي * البارد * (ص ٤١)

- ٣- العام الذي اكتشف فيه الغاز الحر في دولة الكويت :
* ٢٠٠٤ م * ٢٠٠٥ م * ٢٠٠٦ م * ٢٠٠٧ م * (ص ٧٨)

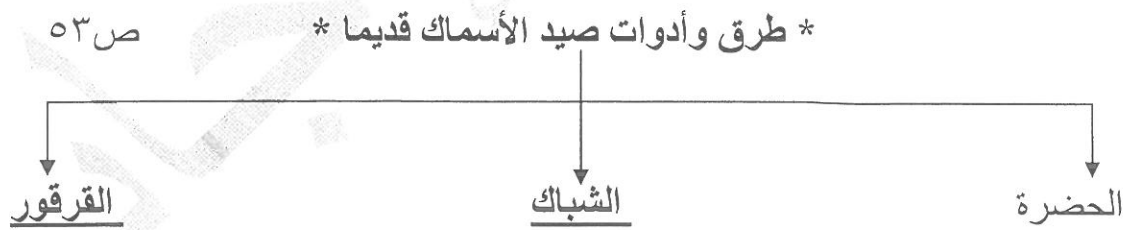
- ٤- نسبة احتياطي النفط الكويتي بالنسبة للاحتياطي العالمي تبلغ :
* ١٠% * ٢٠% * ٣٠% * ٤٠% * (ص ٥٨)

- ٥- الميناء الذي تم تصدير أول شحنة نفط كويتي منه :
* عبدالله * الزور * الشعبية * الأحمدي * (ص ٥٩)

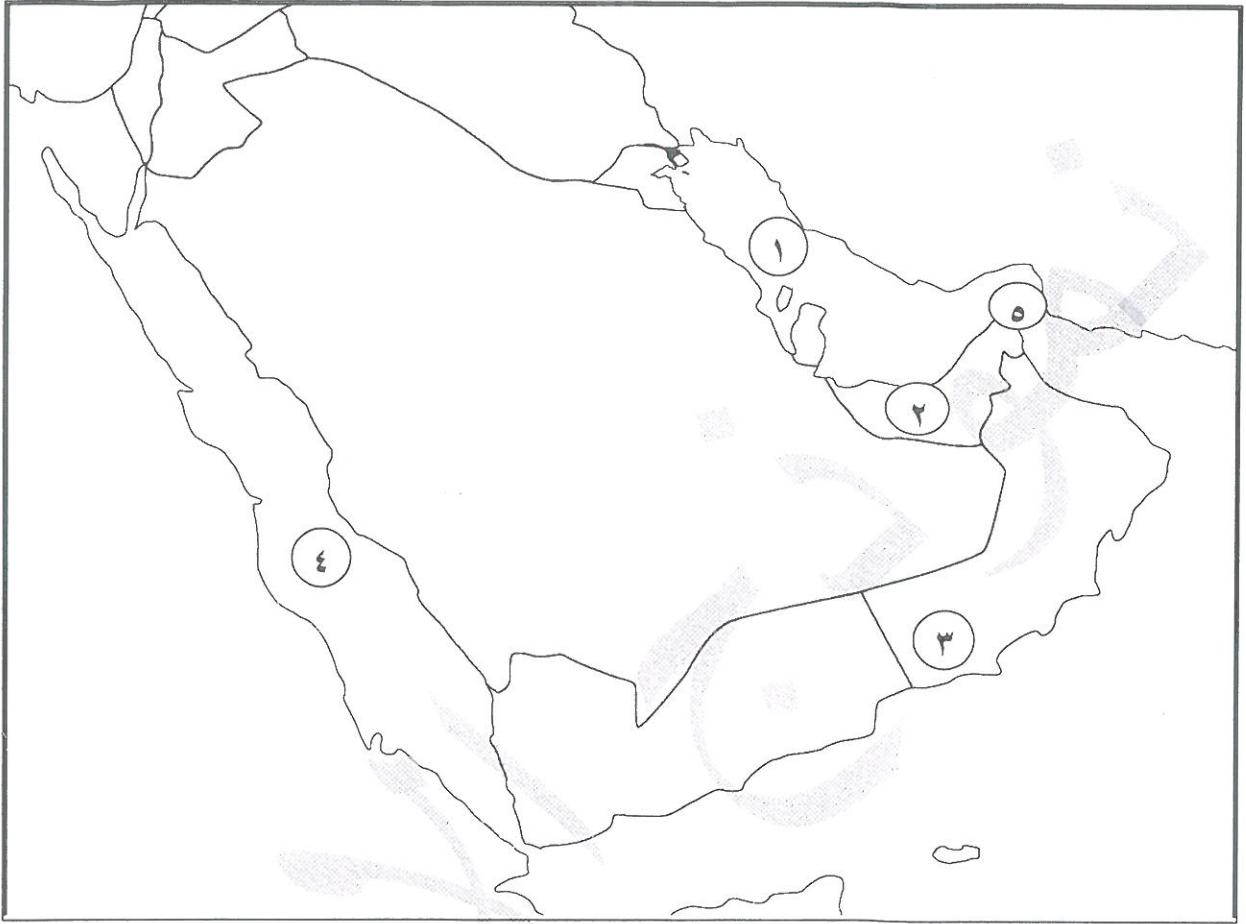
ج) أكمل العبارات التالية بما يناسبها فيما درست: (١ × ٥)

- ١- أداة تحول حركة الرياح إلى طاقة تسمىدوارة الرياح ص٧٦
- ٢- استخدام الموارد المتاحة بالشكل الأمثل يسمىترشيد الاستهلاك ص٦٤
- ٣- اكتشف حقل برقان عام ١٩٣٨ م في عهد حاكم اسمه...أحمد الجابر الصباح... ص٥٩
- ٤- تبلغ نسبة المياه على سطح الكرة الأرضية حوالي ٧٠ % ص١٧
- ٥- محطة كويتية لتوليد الكهرباء باستخدام طاقة الرياح تسمى ... الشقاي ... ص٨٠

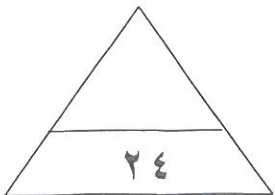
د) أكمل المخططات السهمية التالية بما يناسبها فيما درست : (١×٥=٥)



هـ) لاحظ خريطة شبه الجزيرة العربية ثم نفذ المطلوب مما يليها : (١×٤ = ٤)



- * - مضيق هرمز يمثله على الخريطة الرقم ..٥.. (ص ٢٤)
- * - الخليج العربي يمثله على الخريطة الرقم ..١.. (ص ٢٤)
- * - البحر الأحمر يمثله على الخريطة الرقم ..٤.. (ص ٢٤)
- * - دولة الإمارات العربية المتحدة يمثله على الخريطة الرقم .. ٢.. (ص ٢٤)



ثانيا : الأسئلة المقالية تتكون من (أ ، ب ، ج ، د ، هـ)

أ) عرف كل مما يلي : (٢×١)

- ١) قارة : هي مساحة كبيرة من اليابسة يحيط بها الماء (ص ٢١)
٢) طاقة : القدرة على القيام بعمل معين (ص ٧٣)

ب) اذكر اثنين لكل من : (درجتان لكل سؤال)

١- السمات المشتركة بين دول الوطن العربي. (يكتفى بنقطتين)

- * الدين * اللغة العربية * التراث * التاريخ * الأهداف المشتركة (ص ٢٦)

٢- جهود دولة الكويت في تشجيع تربية حيوانات الرعي والدواجن . (يكتفى بنقطتين)

- * توفير المزارع الخاصة * الرعاية البيطرية
* الدعم المالي * الأعلاف بأسعار رمزية (ص ٥١)

٣- أشهر أنواع الأسماك في بلادي الكويت. (يكتفى بنقطتين)

- * الزبيدي * الهامور
* الميد * الشعم (ص ٥٣)

ج) علل لما يلي: (أذكر السبب)

١- معظم النباتات تنمو في فصل الربيع وتقل في فصل الصيف.

- * شدة الحرارة.
* قلة الأمطار.
* فقر التربة.
(ص ٤٢)

(د) فرق بين كل مما يلي : (٢×١)

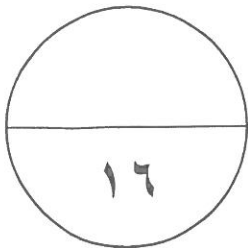
(ص ١٩)

المحيط	الخليج
مسطح كبير جدا من الماء المالح	بحر ضيق يمتد طوليا بين اليابس

(هـ) قارن بين كل مما يلي : (٢×٢)

(ص ٧٣)

الطاقة غير المتجددة	الطاقة المتجددة	وجه المقارنة
الفحم - النفط - الغاز الطبيعي	الرياح - المياه - الشمس	المصدر
*يكتفى بنقطة	*يكتفى بنقطة	
متوفرة حاليا بكميات كبيرة تنتج طاقة حرارية كبيرة جدا	غير ملوثة للبيئة متواجدة بشكل دائم اقتصادية بديلة عن الطاقة غير المتجددة	المميزات
*يكتفى بنقطة	*يكتفى بنقطة	



انتهت الأسئلة،،،